

邏輯思考題目

1【數學】請問這 3 組數字間有何種「共同」關係？

題目 1：

(1、3、7、8)

(2、4、6)

(5、9)

① 都是數字

② 一聲
四聲
三聲

請猜出這三組數字“共同”的關係。

2【IQ 測驗】問答題~對 3 題以上可能是瘋子

A.夕陽西下斷腸人在 ... 醫院

B.台灣是海洋性氣候，夏天吹... 風。 電風

C.與忠孝東路連接，通往總統府的是 柏油路

D.世界最長的車是... 電車

E.人類最後一顆長出來的牙齒是... 假牙。

F.女人懷孕為什麼要趕快結婚.....? 女大當家

G.近代西方殘害中國的兩樣東西(1)(2) .. 英文

H.台灣學生的共同語言有三(1)國語(2)台語
(3) .. 台灣國語

I.十二生肖中，何者會「掌握」人類未來？

鴉片 滑鼠

3【IQ 測驗】

有一天有個年輕人來到王老闆的店裏買了一件禮物，這件禮物成本是 18 元，標價是 21 元。

結果是這個年輕人掏出 100 元要買這件禮物，王老闆當時沒有零錢，用那 100 元向鄰居換了 100 元的零錢，找給年輕人 79 元，但是鄰居後來發現那 100 元是假鈔，王老闆無奈還了鄰居 100 元。請問：

王老闆在這次交易中到底損失了多少錢？

$$18 + 79 = 97$$

4【數學計算】

有一個三位數減去 7 之後，正好被 7 整除；減去 8 之後，正好被 8 整除；減去 9 之後，正好被 9 整除，請問這個三位數是多少呢？

$$[7, 8, 9] = 2504$$

5【數字計算】

從月曆上知 1986 年 1 月 31 是星期三，請問在這張 1 月份的月曆上空有多少個空格？

4

6【數字計算】

已知 ABC 是不同的數字，而且 B 比 C 大三倍，且不為 0，求此算式為何？

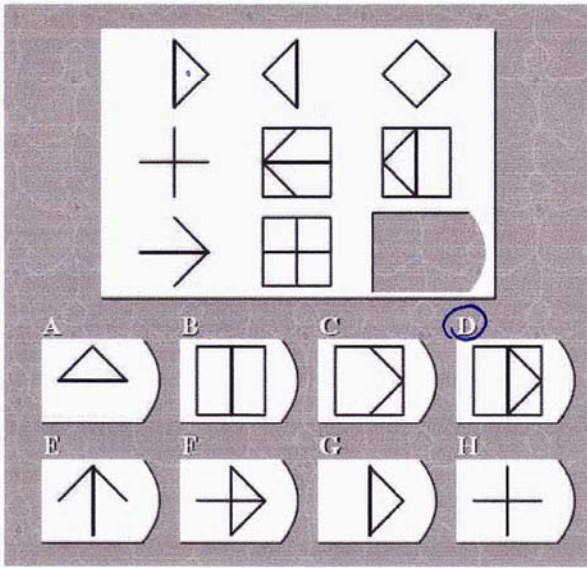
$$\begin{array}{r} \text{ABA} \\ + \text{AAB} \\ \hline \text{BAC} \end{array} \quad \begin{array}{r} 494 \\ 449 \\ \hline 943 \end{array}$$

7【數字方陣】

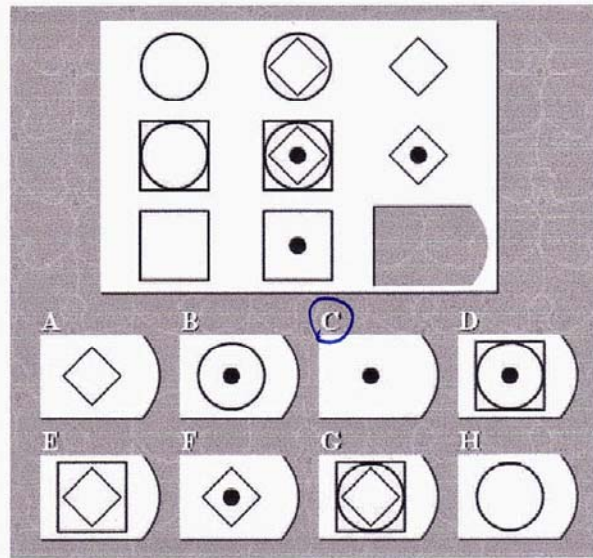
請在方格中填入 1~16，使得直行、橫列、對角線之數字和均相同。

4	6	11	13
9	15	2	8
14	12	5	3
7	1	16	10


8【圖形思考題】



9【圖形思考題】



10【大家來找碴】



一般而言，當槍手要離開鎮上時，在後頭追著他的都是美女。請比較兩張圖，找出兩者之間的不同之處。

不同處 9個

