

邏輯思考題目

1【數學】請問這 3 組數字間有何種「共同」關係？

題目 1：

(1、3、7、8)

(2、4、6)

(5、9)

請猜出這三組數字”共同”的關係。

2【IQ 測驗】問答題~對 3 題以上可能是瘋子

- A.夕陽西下斷腸人在 .... 。
- B.台灣是海洋性氣候，夏天吹.... 風。
- C.與忠孝東路連接，通往總統府的是..... 。
- D.世界最長的車是..... 。
- E.人類最後一顆長出來的牙齒是..... 牙。
- F.女人懷孕為什麼要趕快結婚.....？
- G.近代西方殘害中國的兩樣東西(1)鴉片(2)... 。
- H.台灣學生的共同語言有三(1)國語(2)台語(3) .. 。
- I.十二生肖中，何者會「掌握」人類未來？

3【IQ 測驗】

有一天有個年輕人來到王老闆的店裏買了一件禮物，這件禮物成本是 18 元，標價是 21 元。

結果是這個年輕人掏出 100 元要買這件禮物，王老闆當時沒有零錢，用那 100 元向鄰居換了 100 元的零錢，找給年輕人 79 元，但是鄰居後來發現那 100 元是假鈔，王老闆

無奈還了鄰居 100 元。請問：

王老闆在這次交易中到底損失了多少錢？

4【數學計算】

有一個三位數減去 7 之後，正好被 7 整除;減去 8 之後，正好被 8 整除;減去 9 之後，正好被 9 整除，請問這個三位數是多少呢？

5【數字計算】

從月曆上知 1986 年 1 月 31 是星期三，請問在這張 1 月份的月曆上空有多少個空格？

6【數字計算】

已知 ABC 是不同的數字，而且 B 比 C 大三倍，且不為 0，求此算式為何？

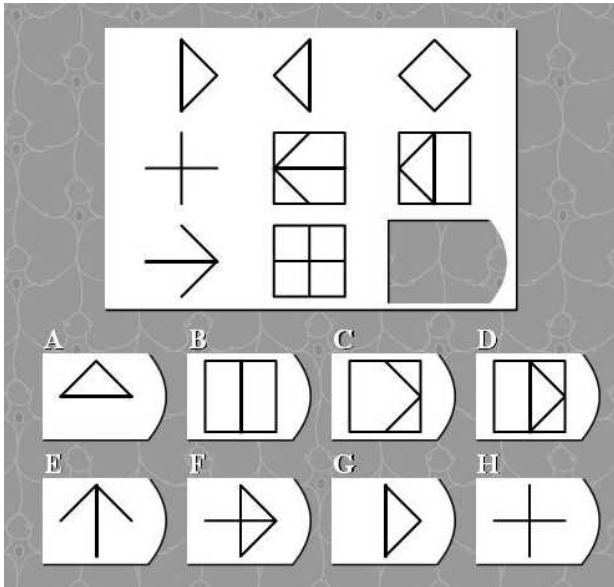
$$\begin{array}{r} \text{A B A} \\ + \text{A A B} \\ \hline \text{B A C} \end{array}$$

7【數字方陣】

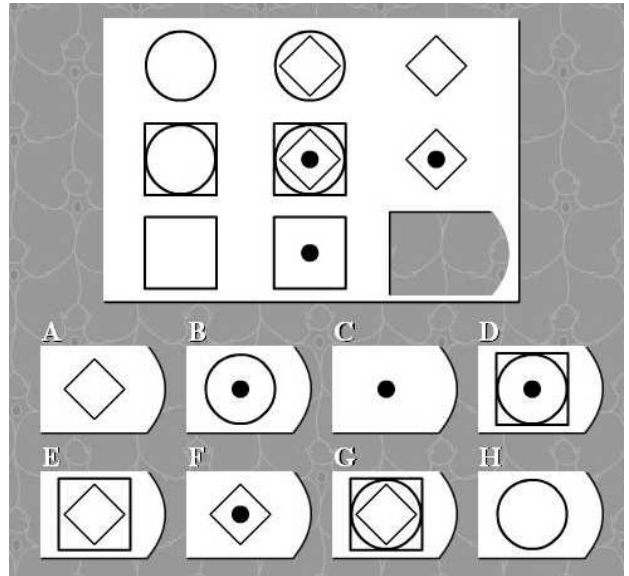
請在方格中填入 1~16，使得直行、橫列、對角線之數字和均相同。

4			13
7			


8【圖形思考題】



9【圖形思考題】



10【大家來找碴】



一般而言，當槍手要離開鎮上時，在後頭追著他的都是美女。請比較兩張圖，找出兩者之間的不同之處。

不同處 **9**個

