

邏輯思考題目


◆ 新型態的數獨

請按照空格旁數字指示(3)，在空白處填入可能的數字；每一列與每一行 1~9 不重覆。



$3 \rightarrow 1+2(2+1)$

◆ 訓練觀察力




◆ 思考與計算能力


有一水果攤老闆只賣鳳梨和西瓜，每個箱子裡都是同一種水果，共有6箱，分別裝有水果23個，12個，5個，14個，6個，29個。假如賣掉一箱的鳳梨，那麼西瓜的個數正好是鳳梨的2倍，請問那幾箱是鳳梨？那幾箱是西瓜？

14, 6, 29

23, 12, 5



反敗為勝！



最後一局，打擊手逆轉跑回本壘，貓咪隊反敗為勝！請仔細觀察兩張圖，找出兩者之間的不同之處。

不同處 9個

